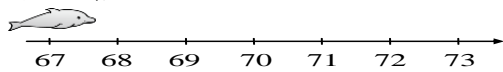


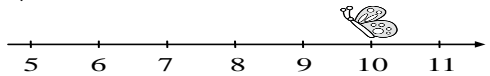
領域：數學 三年【 】班【 】號 姓名：【 】

一、對的畫○，錯的打×-每題 2分(6%)

1. () 小海豚從 67 向 右 游 到 73，游 了 6 格。



2. () 小蝴蝶從 10 向 左 飛 5 格，會 飛 到 5。



3. () $10008 > 10999$

二、選出正確的答案 (選擇題) -每題 2分(4%)

1. () 一個 是 一 千，數 一 數，有 多 少？

- ① 4000 ② 5000 ③ 6000 ④ 10000。

2. () 下 面 的 敘 述，哪 一 個 人 是 對 的？

小明：在 數 線 上，越 右 邊 的 數 越 小。
 小華：在 數 線 上，越 左 邊 的 數 越 大。
 小龍：在 數 線 上，越 左 邊 的 數 越 小。
 小翰：在 數 線 上，無 法 判 斷 數 的 大 小。

- ① 小 明 ② 小 華 ③ 小 龍 ④ 小 翰。

三、填填看-每題 1分(28%)

1. 7629 的 7 表 示 () 個 千，是 ()；
 6 表 示 () 個 百，是 ()；2 表 示 2 個 ()，是 ()；9 表 示 9 個 ()，是 ()。

2. 爺 爺 包 紅 包 給 孫 子 們 當 壓 歲 錢。

(1) 請 把 下 面 紅 包 的 金 額 寫 下 來。

A 紅 包

() 元

B 紅 包

() 元

C 紅 包

() 元

D 紅 包

() 元

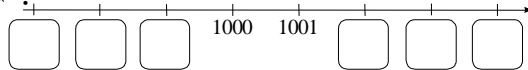
(2) 金 額 由 大 到 小 排 列，依 序 填 入 代 號。

() > () > () > ()

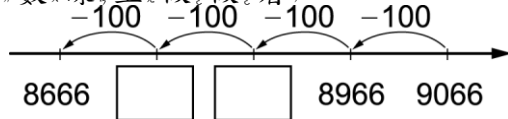
3. 最 大 的 四 位 數 是 ()。

4. 最 小 的 四 位 數 是 ()。

5. 填 填 看， 的 位 置 表 示 哪 一 個 數？



6. 在 數 線 上 做 做 看。



7. 8 個 1000、7 個 100、6 個 10 和 3 個 1 合 起 來 是 ()，讀 作 ()。

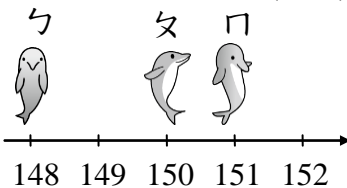
四、圈圈看-每個答案 2分(14%)

1. 下 面 三 隻 海 豚 依 指 示 移 動，把 最 後 會 停 在 相 同 數 的 海 豚 圈 起 來：

① 海 豚 從 148 開 始 游，先 向 右 游 7 格，再 向 左 游 9 格。

② 海 豚 從 150 開 始 游，先 向 左 游 10 格，再 向 右 游 10 格。

③ 海 豚 從 151 開 始 游，先 向 左 游 9 格，再 向 右 游 8 格。(2分)

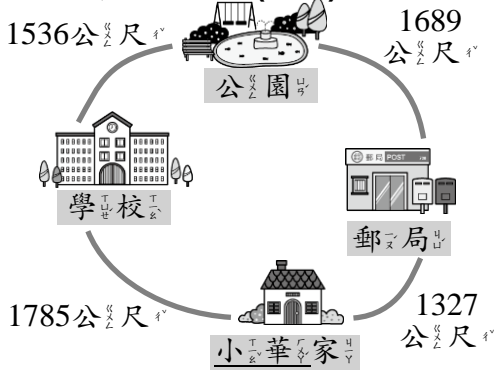


2. 有 一 個 四 位 數，這 個 數 比 2300 大，比 2800 小，這 個 數 的 百 位 數 字 可 能 是 下 面 哪 些 數 字？(10分)

- 2 3 4 5 6 7 8

3. 阿 姨 帶 了 2700 元 逛 街，她 想 買 一 件 衣 服，錢 卻 不 夠，她 領 了 錢 後，付 了 3 張 1000 元 才 買 下 來。這 件 衣 服 可 能 是 哪 一 件？圈 圈 看。

五、看圖做做看-每題 4 分(16%)



(1) 小華從家裡出發經過學校到公園，共要走幾公尺？

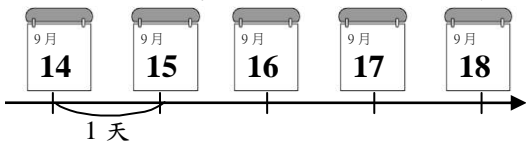
(2) 小華從郵局經過公園到學校，共要走幾公尺？

(3) 小華從家裡出發，經過學校到公園，還是經過郵局到公園，哪一條路比較短？

(4) 小華今天從家裡到學校來回一趟，共走了幾公尺？

六、寫出算式做做看-每題 4 分(32%)

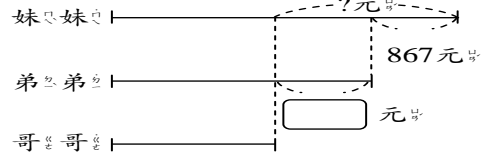
1. 教師節是 9 月 28 日，今天 9 月 14 日，再過幾天就是教師節？



2. 園遊會上上午來了 2800 人，下午來了 1727 人，園遊會上上午比下午多來了幾人？

3. 妹妹比弟弟多 867 元，弟弟比哥哥多 956 元，妹妹比哥哥多幾元？

先完成線段圖，再做做看。



4. 佩芬有 5680 元，她買了一件洋裝後，還剩下 2690 元，一件洋裝賣多少元？

5. 找出最小的四位数與最大的三位数，算出兩數的差是多少？

6. 弟弟在便宜玩具店選玩具，他想拿零用錢買一臺 965 元的遙控汽車，但不夠 580 元，弟弟身上有多少零用錢？

7. 停車場裡原有 557 輛車，後來又開進 472 輛，現在停車場裡一共有幾輛車？

8. 小鳥依照順序飛，一次飛一個間隔到另一棵樹上，從第 29 棵樹飛到第 40 棵樹，小鳥共飛了幾次？

