



屏東縣恆春國小 108 學年度上學期第一次定期評量

領域：社會 六年【 】班【 】號 姓名：【 】


一、選擇題：每題 2 分，共 30 分

- () 1. 下列哪一位不屬於經濟活動中的生產者？
 ①在恆春國小拆校舍的工人 ②在路邊賣臭豆腐的叔叔 ③在網紗種洋蔥的來來 ④到超市買牛奶的小誼
- () 2. 五月天的演唱會門票通常價格昂貴，但往往都能銷售一空。請問，影響消費者購買演唱會門票的主要因素是什麼？ ①個人喜好 ②環保 ③促銷減價 ④價格
- () 3. 「購買這項產品不僅能減少電費，還可以為環保盡一分心力。」請問，上述提到的產品較可能有下列哪一個標章？
- 


①



②



③



④
- () 4. 茹茹的表姐準備在恆春鎮開一間民宿，但是資金不夠，希望茹茹可以出錢投資，如果茹茹想要降低這項投資的風險，他在付出資金前，應該先蒐集下列哪一項資料？
 ①民宿的地點好不好 ②民宿的空間規劃如何 ③表姐的經營理念是否合宜 ④以上選項都需要
- () 5. 招招常常看網路直播買了許多用不到的衣服及化妝品，每個月都把薪水花光，想要減少日常花費的她，怎麼做較適當？
 ①把所有薪水拿去買基金 ②先將部分收入存入銀行 ③辦信用卡來刷卡 ④自己當直播主來賣東西
- () 6. 廷廷食品股份有限公司近期股票價值不斷下跌，可能是下列哪一個因素導致？
 ①招募大批員工 ②被發現使用過期原料 ③在越南設立分工廠 ④邀請國際影星拍攝宣傳廣告
- () 7. 下列哪一項是戰後初期政府推行的土地改革內容？ ①提高農地地租的上限 ②政府高價收購農民的土地 ③開放國有耕地讓農民購買 ④將所有農地規畫為綠地
- () 8. 政府於民國 50 年代設立加工出口區的用意是什麼？ ①補助貧困農民 ②拓展對外貿易 ③滿足國內商品需求 ④滿足民生用電需求
- () 9. 生活在民國 30 至 40 年代的恆春人，較可能經歷過什麼事？ (①在南灣看到核電廠啟用 ②北漂到新竹科學工業園區上班 ③開車經由中山高速公路去台北探親 ④聽村長解說土地改革政策的內容

- () 10. 下列哪一項屬於綠能科技的產品？
 ①SWITCH 遊戲機 ②GOGORO 電動車 ③NIKE 球鞋 ④洋蔥蛋糕
- () 11. (甲)勞動力充足、(乙)人力成本低廉、(丙)教育程度高。戰後時期，臺灣擁有以上哪些優勢，利於發展加工製造業？
 ①(甲)(乙) ②(乙)(丙) ③(甲)(丙) ④(甲)(乙)(丙)
- () 12. 三叔公臭臭鍋牆上公告：「即日起店內餐點全面調漲 10 元。」請問，上述情形的發生與下列哪一個因素較無關？ ①水電支出增加 ②政府調高基本工資 ③臭豆腐價格下跌 ④房東調漲房租。
- () 13. 「十大建設」政策的推動為臺灣帶來什麼影響？ ①國內交通運輸更便捷 ②奠定國內重工業的基礎 ③提供許多就業機會 ④以上選項都是
- () 14. 政府為協助企業轉型，提升國際競爭力，較可能採取哪一種做法？ ①高利貸款給企業 ②徵收私人土地賣給業者蓋工廠 ③強迫傳統產業結束經營 ④辦理產業技術進修課程
- () 15. 下列哪一項不是臺灣目前面臨的經濟困境？ ①物價上漲幅度大於薪資漲幅 ②薪資過低，國內人才轉往外國就業 ③工業技術低落 ④企業為降低成本大量外移至國外

二、是非題：每題 2 分，共 20 分

- () 1. 人們會為了滿足生活需求進行生產或消費。
- () 2. 個人收入的高低會影響人們的消費能力。
- () 3. 使用行動支付時，應謹慎保護個人的帳號與密碼。
- () 4. 「想要」不等於「需要」，在消費前應冷靜思考避免因一時衝動而過度消費。
- () 5. 購買基金若沒有獲利，可以不用支付任何費用。
- () 6. 臺灣經濟發展過程是以農業培養工業，再從工業移轉到高科技產業。
- () 7. 戰後初期，政府不斷對外輸送物資支援戰事，造成臺灣物資缺乏。
- () 8. 土地改革後，臺灣的農地被細分成許多小單位，有利於日後發展大規模機械耕作。
- () 9. 政府與國外簽訂自由貿易協定，可能會對國內弱勢產業產生衝擊。
- () 10. 近幾年，國內廠商為了降低成本，將工廠遷移到工資較便宜的國家，造成國內失業率上升。

三、是的打√，不是的打×：每格2分，共20分

1. 酥酥從電視財經節目中聽到主持推薦一些會賺錢的「股票明牌」，於是向爸媽借了50萬，並且把銀行裡還沒到期的定期存款通通領出來，加上這個月中家中的生活費，總共100萬，全部拿來買股票。

- () (1) 酥酥向爸媽借錢投資，是可以快速致富的好方法。
 () (2) 酥酥把還沒有到期的定期存款領出來，會損失利息。
 () (3) 酥酥不該只聽主持人的建議就投資，應該多方蒐集意見。
 () (4) 酥酥如果能湊到更多錢買股票，一定可以獲得更多利潤。

2. 為減輕環境負擔，現今國內部分產業以低耗能、低汙染為發展目標。下列哪些產品符合上述目標？

- () 以電池為動力的電動公車。
 () 燃燒廢電池分解出的重金屬。
 () 輕便的保麗龍餐具。
 () 用可分解材料製成的塑膠袋。
 () 太陽能發電的觀光船
 () 回收寶特瓶製成的再生布料。

四、題組題：每題2分，共16分

1. 臺灣在歷經數次經濟轉型的過程中，政府扮演了關鍵角色，下列分別是政府主力發展哪一項產業時推動的建設？將代號填入()裡：

- ㄅ. 勞力密集的輕工業
 ㄆ. 附加價值高的科技業
 ㄇ. 能源需求高的重工業

- () (1) 成立中船高雄總廠。
 () (2) 規畫高雄加工出口區。
 () (3) 設立新竹科學工業園區。

2. 下列是臺灣戰後初期高雄市發大財雜貨店在同一天上午和下午公告的價目表，依內容回答問題，選出正確答案，在□裡打√：

克 林 奶 粉 小 罐 七 元	豬 肉 一 斤 一 元	白 米 一 斤 二 元	雞 蛋 一 顆 五 角	下午	克 林 奶 粉 小 罐 二 十 八 萬	豬 肉 一 斤 四 萬 元	白 米 一 斤 八 萬 元	雞 蛋 一 顆 兩 千 元	上午
--------------------------------------	----------------------------	----------------------------	----------------------------	----	--	---------------------------------	---------------------------------	---------------------------------	----

- (1) 這是發生於民國哪一年的情形？
 ① 民國34年。 ② 民國38年。
 (2) 雜貨店的商品價格為什麼上午跟下午不一樣？
 請選出較適當的答案
 ① 雜貨店周年慶大特價 ② 政府發行新臺幣。

3. 阿華從恆春國中畢業以後，就在墾丁大街開自製滷味專賣店。依題意回答問題，敘述正確的在□裡打√：

- (1) 在滷味的銷售過程中，阿華屬於哪一種角色？
 ① 生產者。 ② 消費者。
 (2) 如果製作滷味的雞屁股漲價，為了維持利潤，阿華較可能採取什麼做法？
 ① 降低人事成本。 ② 降低產品售價。
 (3) 如果你阿華，請寫出一種讓店裡業績提升的方法？
 答：()

五、閱讀理解題：每題2分，共14分

1. 民國39年開始，美國對臺灣進行一系列的經濟援助，美國文化也在此時進入臺灣。例如：當時美國提供大量的麵粉與小麥，讓過去以米食為主的臺灣開始出現麵包、西點等西式食物，為臺灣人帶來新的飲食習慣。此外，美國的音樂、宗教、棒球等也逐漸在臺灣流行起來，這些外來文化為臺灣社會注入新元素，如今成為臺灣人生活的一部分。

- () (1) 美援時期，美國提供臺灣的援助不包括下列哪一項？(①糧食作物②技術支援③簽訂FTA)。
 () (2) 當時傳入臺灣的美國文化不包含下列哪一項？(①美式食物②孝順父母的觀念③搖滾樂)。
 () (3) 美國援助臺灣時，正參與某一場戰爭，美國選擇與臺灣密切合作，較可能是出於何種目的？(①使臺灣成為美國在亞洲的軍事補給站②藉機奪取臺灣的統治權③將美國人民遷往臺灣避難)。

2. 下列是小鈞這個月的收支紀錄，依據內容回答問題，：

項目	收入	支出
零用錢	1000元	
車資		300元
零食		200元
遊戲點數		250元
獎學金	300元	
文具用品		180元

(1) 小鈞這個月的支出項目中，哪一些屬於「非必要支出」？(4分)

答：()

(2) 如果小鈞想減少支出，你覺得他有什麼方式可採用呢？請寫出至少兩種。(4分)

答：()