

屏東縣恆春國小 108 學年度上學期第二次定期評量

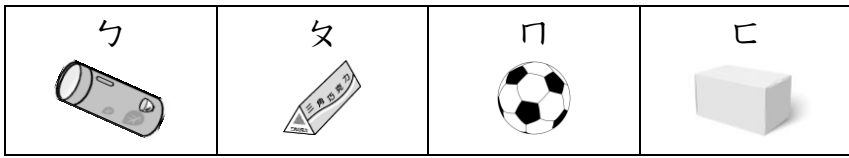
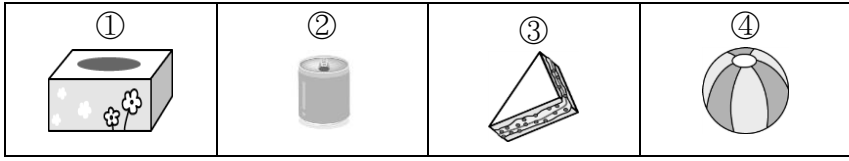
領域：數學 一年【 】班 座號：【 】 姓名：【 】

一、算算看看(每題 2 分，共 8 分)

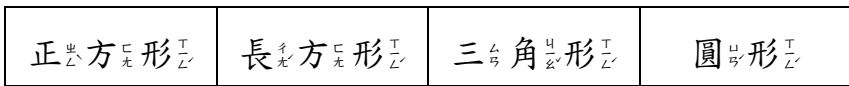
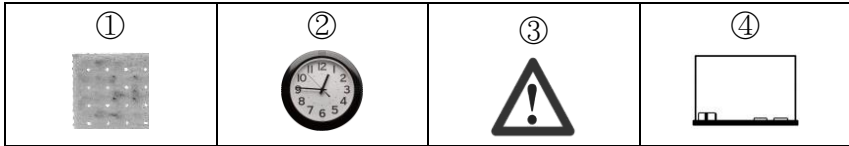
- (1) $2+2=$ () (2) $9+0=$ ()
 (3) $3+5=$ () (4) $1+6=$ ()

二、連連看看(每題 1 分，共 12 分)

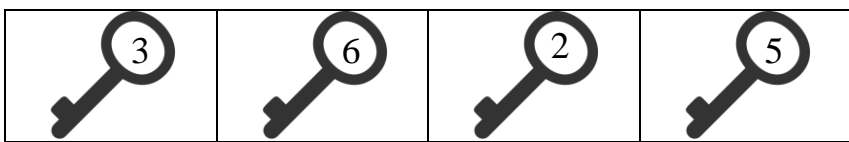
1. 把看起起來很像的東西連起來。



2. 下面的東西是什麼形狀?

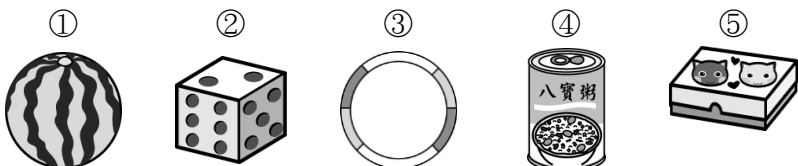


3. 把鑰匙上的數字和藏寶箱上的數字合起來是 10 的連起來。



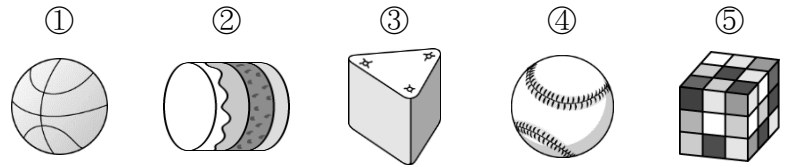
三、勾選題：在正確的()中打勾 (每格 1 分，共 19 分)

1. 哪些東西容易滾動?



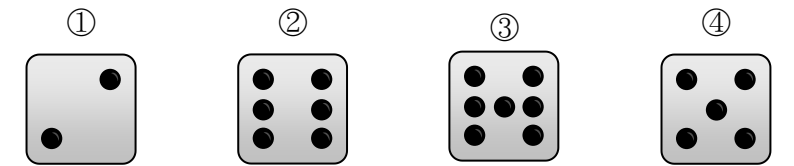
() () () () ()

2. 哪些東西有平的面?




() () () () ()

3. 哪兩個點數合起來是 9?

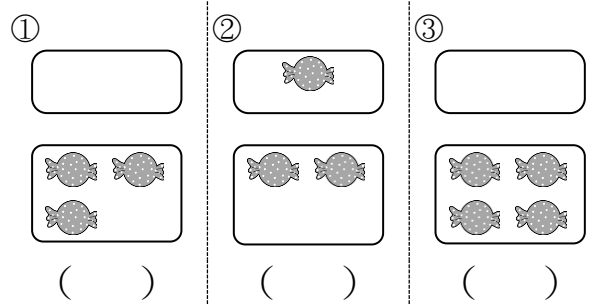


() () () ()

4. 下面哪一張圖的小鳥數量可以用 $4+2$ 表示?




5. 下列哪一張圖符合算式 $0+3=3$?



四、圖畫出正確的答案(每格 1 分，共 15 分)

1. 老師買了 8 塊蛋糕，一盤放 4 塊蛋糕，另一盤會有幾塊蛋糕?



答：(0 塊, 4 塊, 12 塊)

2. 琳琳帶了 6 根棒棒糖來學校，她想分成兩堆，可以怎麼分?

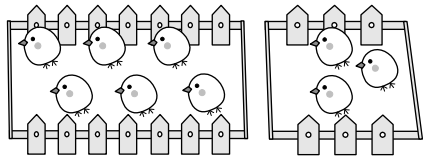


答：(2 和 3, 3 和 3, 4 和 3)

3. 下列哪一個圖形和箭頭指出出的面相同?

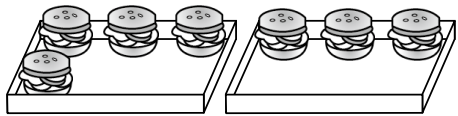
答：(, ,)

5. 一共有幾隻小雞？



答：($6+2=8$, $7+3=10$, $6+3=9$)

6. 一共有幾個漢堡？



答：($1+5=6$, $2+5=7$, $4+3=7$)

五、分分看看或合合看看(每格2分，共10分)

(1)

| | |
|---|--|
| 2 | |
| 2 | |

 (2)

| | |
|---|---|
| 9 | |
| | 4 |

 (3)

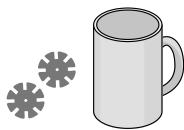
| | |
|---|---|
| 7 | 3 |
| | |

(4)

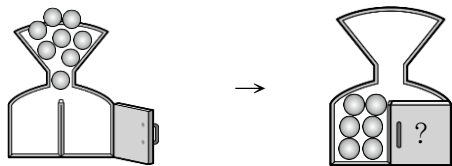
| | |
|---|--|
| 5 | |
| | |

六、填填看看(每格2分，共22分)

1. 桌上有7個花瓣，被杯子蓋住的有()個。



2. 將8顆球投入遊戲箱，8顆球可以分成6顆和()顆。




3. 小朋友玩投球遊戲，每人有5次投球機會，翰翰投中5顆球，沒投中()顆球。

4. 7朵和()朵合起來是8朵。

8朵可以分成7朵和()朵。

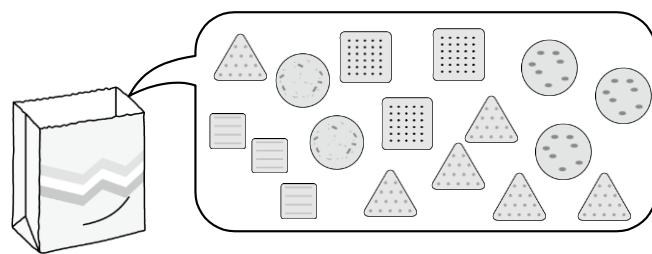


5. 有幾個人在玩跳繩？完成算式。

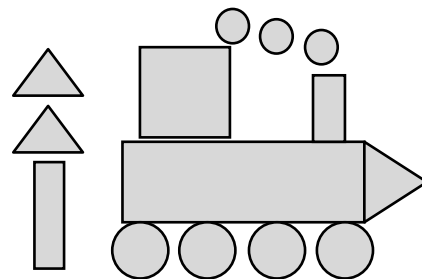


$4 + () = ()$

6. 下圖有()塊三角形的餅乾。



7. 看看圖數數看看。



(1) 有()個三角形。

(2) 有()個長方形。

(3) 有()個圓形。

(4) 有()個正方形。

七、做做看看：先寫出算式，再算出答案。(每題4分，共12分)

1. 小白兔種了2根蘿蔔和6根紅蘿蔔，小白兔一共種了幾根蘿蔔？

答：()根蘿蔔

2. 今天早上小羊吃了3盤小草，晚上又吃了4盤小草，小羊一整天總共吃了幾盤小草？

答：()盤小草

3. 小羊和小白兔玩猜拳遊戲，小羊出「布」，小白兔出「剪刀」，兩人共伸出了幾根手指頭？

答：()根手指頭

寫完考卷了，記得仔細檢查喔！