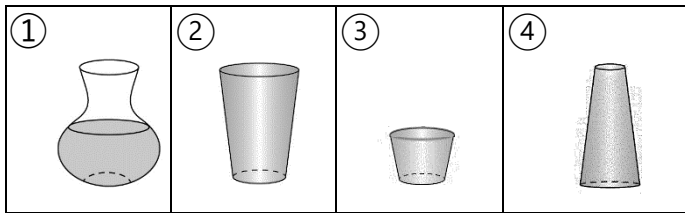


領域：數學

二年【 】班【 】號 姓名：【 】

一、選擇題：(每題 2 分，共 12 分)

- ( ) 1. 美勞課每人分到 2 張彩色紙，一組有 6 人，一組共要準備幾張彩色紙才夠？  
 ① 6 張    ② 12 張    ③ 8 張
- ( ) 2. 小玉有 80 元，買蠟筆花 52 元。請問下面哪一句話是對的？  
 ① 小玉大約花了 60 元。  
 ② 小玉大約還剩 20 元。  
 ③ 小玉大約花了 50 元。
- ( ) 3. 下面哪些容器可以再裝水？



- ( ) 4. 1 個豆莢有 4 顆豆子，8 個豆莢共幾顆豆子？  
 ① 36 顆    ② 34 顆    ③ 32 顆
- ( ) 5. 漢漢原有 83 元，買一個 25 元的飯糰後，漢漢剩下幾元？  
 ① 68 元    ② 58 元    ③ 53 元
- ( ) 6. 下面哪一種不是容器？  
 ① 時鐘    ② 杯子    ③ 水壺

二、把意思相同的連起來：  
 (每答 2 分，共 12 分)

•	•	•
•	•	•
5 有 3 個	4+4+4+4	8 的 2 倍
•	•	•
•	•	•
4x4	5x3	8x2

三、勾選題：(每題 3 分，共 18 分)

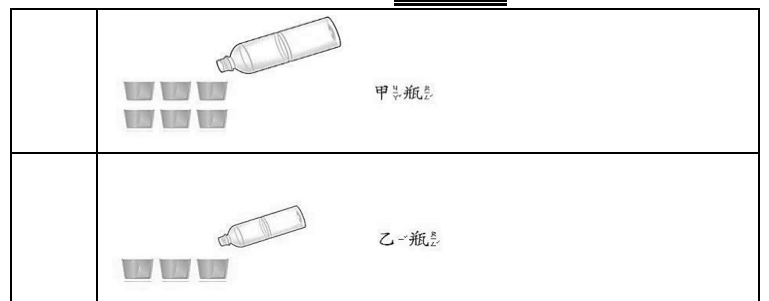
1. 「2 的 5 倍」和下面哪個選項的意思相同？
- |                          |     |
|--------------------------|-----|
| <input type="checkbox"/> | 2x5 |
| <input type="checkbox"/> | 2+5 |
| <input type="checkbox"/> | 5x2 |
2. 「姐姐有 72 顆巧克力，吃掉 37 顆後，姐姐剩下幾顆巧克力？」下面哪個算式是正確的？

<input type="checkbox"/>	72 + 37 = 109
<input type="checkbox"/>	72 - 37 = 35
<input type="checkbox"/>	37 + 72 = 35

3. 「4x6」和下面哪個選項意思相同？

<input type="checkbox"/>	6 有 4 個
<input type="checkbox"/>	6 的 4 倍
<input type="checkbox"/>	用加法可以記成「4+4+4+4+4+4」

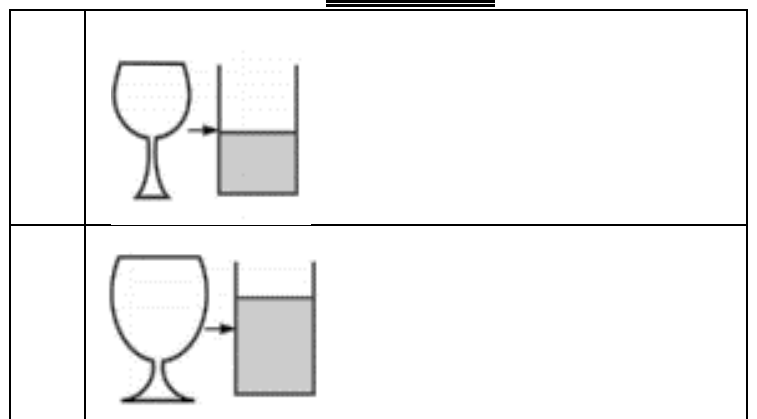
4. 哪一個瓶子的容量較大？



5. 用驗算檢查，軒軒和莉莉誰算對了？

<input type="checkbox"/>	軒軒：27 + 14 = 41
<input type="checkbox"/>	莉莉：63 - 45 = 22

6. 哪一個容器的裝比較多？



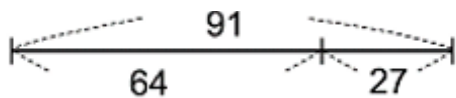
四、配合題：(每題2分，共32分)

1. 愛麗絲與賣帽人、三兔、睡鼠一同享受美好的下午茶，請看圖回答下列問題。



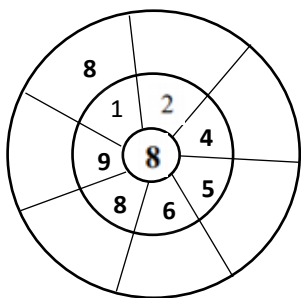
- (1) 可以倒( )杯子。
- (2) 可以倒( )杯子。
- (3) 可以倒( )杯子。
- (4) 可以倒( )杯子。
- (5) 愛麗絲比睡鼠少喝( )杯下午茶。
- (6) ( )喝的茶壺的容量最多。
- (7) ( )喝的茶壺的容量最少。

2.  $64 + 27 = 91$ ，不要計算填填看。



- (1)  $91 - 64 = ( )$
- (2)  $91 - 27 = ( )$

3. 多多與拉拉玩射飛鏢遊戲，得分為「由內向外乘」：



4. 最接近「 $71 - 29$ 」答案的數在( )打○：



五、用直式計算看：(每題2分，共4分)

1.  $49 - 31 = ( )$
2.  $92 - 36 = ( )$

六、應用題：(共22分)

1. 一包餅乾有5片，丁丁買7包，請問共有幾片餅乾？(6分)

① 用加法算式表示：(2分)

② 用乘法算式表示：(3分)

答：( )片餅乾

2. 題組題 請依序回答問題：

聖誕節快到了，瑪莎與熊熊想開一場聖誕派對，做好了多麥片粥，分給森林裡的好朋友們。

(1) 熊熊安排給好朋友的座位，每8個座位為一排，共有7排，請問熊熊共安排幾個座位呢？(4分)

用乘法算式表示：

答：( )個

(2) 承上題，每個座位都坐滿了，又來38個客人，請問聖誕派對共來了幾個客人呢？(6分)

驗算：

答：( )個

(3) 派對結束後，剩下28碗麥片粥，瑪莎吃15碗，剩下幾碗呢？(6分)

驗算：

答：( )碗