

壹、主題報告：以下是同學在社會課的主題報告，請你閱讀報告內容，針對問題選擇正確答案(1-13 題、16-21 題每
答 2 分，14-15 題每答 4 分，共 52 分)

一、秉銓報告主題：地理與文學

白淨的沙灘是水陸的交易
你來看，海神的攤位
多精巧的珊瑚與貝殼
不計歲月的琢磨，被風，被浪
被細緻的沙粒慢揉又細搓
洗出人寵人愛的光澤

節錄自 余光中〈貝殼砂〉

1. ()臺灣哪個地區的海岸有較多的珊瑚？①東部 ②西部 ③南部 ④北部。
2. ()承上題，下列哪一選項不是此地區的自然環境特色？①屬於熱帶氣候區 ②海水清澈 ③不同季節河川流量變化大 ④河川流入太平洋。
3. ()此地區附近有珊瑚礁隆起的島嶼，請問是下列哪座島嶼？①蘭嶼 ②澎湖群島 ③琉球嶼 ④馬祖列島。
4. ()此地區的居民，如何利用海岸才能獲得最大效益呢？①設立港口，供大型船隻停靠 ②保護珊瑚，發展觀光產業，吸引遊客 ③利用岸邊廣闊的平原曬鹽 ④採集珊瑚，買賣珊瑚。

我們拜訪了澎湖最古老的天后宮，走過吉貝島上金黃色的沙灘，看過桶盤嶼上壯觀的柱狀玄武岩……。坐在望安島的沙灘上，舅舅敘述著綠蠵龜迴游上岸的故事。直到這時，我們才知道：原來這裡是少數還有綠蠵龜上岸產卵的沙灘。繼續往前走，我們發現美麗的雙心石滬，它心連著心，出現在懸崖下方。海水正在退潮，許多漲潮時游進石滬裡的魚兒，被圍堵在裡頭，找不到出口。舅舅指著正在撈魚的漁夫，笑著說：「你看，從前的人多有智慧啊！發明了這樣的石滬，連現代人都可以『不撈而獲』了。」

改寫自〈菊島巡禮〉

5. ()澎湖是臺灣的離島縣市，請問澎湖位置處於哪一片海洋之上？①東海 ②太平洋 ③巴士海峽 ④台灣海峽。
6. ()下列選項何者為澎湖群島形成的原因？①海底火山噴發 ②花崗岩陸地延伸 ③泥沙堆積 ④珊瑚礁隆起。
7. ()承上題，請在文章中找出證明澎湖群島形成原因的證據。①金黃沙灘 ②柱狀玄武岩 ③雙心石滬 ④綠蠵龜回流處。
8. 請根據文章內容，寫下一個當地居民利用當地資源發展的產業活動內容。(請利用「居民利用澎湖的……資源，發展……業。」句型回答)(2分)

二、宛軒報告主題：臺灣河川


臺灣本島河川眾多，發源於中央山地，東西分流，獨流入海的大小溪河，總計四百多條。臺灣位於副熱帶季風區，氣候溫暖，除少數高山偶有降雪，主要的降水仍以降雨為主，全年總雨量豐沛，成為臺灣河川主要的水源。這些在臺灣各地分布的大小溪河，是重要的水資源命脈，滋潤了土地與生命，成就了臺灣的社會與經濟發展，但因為氣候特性及地形特性，真正能運用的水資源並不足夠。

9. ()宛軒想將臺灣的河川流域繪製成簡易的圖示，下列哪一種畫法才是正確的？

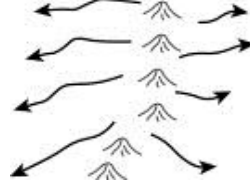
①



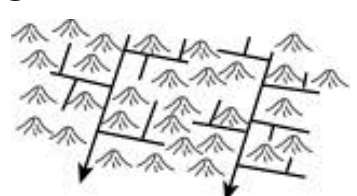
②



③



④



10. ()下列何者是臺灣河川水量的主要來源？①雪水 ②湖水 ③雨水 ④海水。
11. ()宛軒好奇「臺灣真正能運用的水資源並不足夠」的原因，請問下列哪一選項是原因之一？①降雨季節及空間分布不均 ②全年雨量不足 ③水庫數量不夠且容量小 ④淨化技術落後，沒有乾淨的水可用。

12. () 宛軒蒐集資料，發現世界最長河流是非洲的尼羅河，長度約為 6650 公里；臺灣最長的濁水溪約為 186 公里，臺灣超過 100 公里的河流只有六條。請問宛軒蒐集到的資料，凸顯了臺灣河流的哪一項特性？
①流速湍急 ②河流短小 ③流量變化大 ④東西分流。
13. () 臺灣河川流速湍急，造成這種現象的主要原因是下列哪一項？①乾溼季節分明 ②山勢陡峭，地勢起伏大 ③颱風侵襲，夾帶豪雨 ④含沙量少。
14. 報告中提到「溪河成就了臺灣的社會與經濟發展」，請具體且完整寫下人們應用溪河的水資源促進社會與經濟發展的一項作法。(參考答案：溪河提供生物棲息地，促進溪河生物多樣性，成為大自然的寶貴資產。)

15. 臺灣除了真正能運用的水資源並不足夠的問題外，請再寫下一個臺灣河川目前面臨的問題與解決方法：

問題：_____

解決方法：_____

三、旻擘報告主題：臺灣海岸

沙岸與岩岸：

| | 位置 | 海岸線 | 海水深度 | 利用情形 | 特殊地形 |
|----|----|-----|------|------|------|
| 沙岸 | 西部 | 曲折 | 較淺 | 養殖漁業 | A |
| 岩岸 | 北部 | 平直 | 較深 | 興建港口 | 岬灣 |

16. () 旻擘用表格整理出沙岸與岩岸的比較，哪項內容錯誤？①位置 ②海岸線 ③海水深度 ④利用情形。
17. () 幫助旻擘完成表格，表格中的 A 應該填入下列哪一選項？①瀉湖 ②斷崖 ③堡礁 ④冰川。
18. () 旻擘想了解海岸的運用情形，蒐集到一處港口的資料：「_____港，附近除河口沖積地區外，多為岩岸。這個港口海水極深，甚至深達數十公尺，汽船無法靠岸，只能停於外海等待小船接駁；冬季東北季風吹拂，風浪大，但卻缺乏可以避風的港灣，所以空有港口之名，無法有效利用。」請根據所學，判斷此港口最可能指下列哪一個港口？①臺中港 ②安平港 ③高雄港 ④花蓮港。
19. () 承上題，此港口屬於臺灣的哪一種海岸類型？①沙岸 ②珊瑚礁海岸 ③斷崖海岸 ④岬灣海岸。

四、雁文報告：生活中的權利

20. () 右圖圖一是雁文為了報告主題所蒐集到的圖片，請問關於圖片的介紹何者不正確？①保障身分地位特殊的人的權利 ②內容包含要求人民履行應盡的義務 ③是國家的根本大法，任何法律都不能與它相牴觸 ④規定政府組織，具有穩定國家政治的功能。

21. () 雁文針對報告內容蒐集了三則新聞，以下是新聞標題：

(A) 民進黨總統候選人蔡英文女士與國民黨總統候選人韓國瑜先生選況激烈

(B) 美國總統大選結果出爐，川普擊敗希拉蕊

(C) 「2020 不分區立委選舉」民進黨、國民黨公布完整名單

請問雁文想要介紹哪一項基本權利？①平等權 ②自由權 ③參政權 ④受益權。



22. 雁文針對報告內容訪問鄰居妮妮，得到以下的紀錄：

妮妮信仰伊斯蘭教，成年之後進入一家餐廳工作，但是卻遭到老闆的虐待。不僅強迫妮妮違背宗教規範，逼她吃豬肉，也不給她應有的薪資和假期，休息時間不能與其他人通訊，還必須幫忙照顧老闆的母親，反抗的話就有可能遭到毒打。老闆甚至常在言行之中表露印度教信仰比媽祖信仰更愚昧的態度。受不了老闆虐待的妮妮，最後努力參加了國家考試，擔任國家的公職以脫離老闆。

- (1) () 請問妮妮的老闆沒有明確侵犯妮妮的哪一項權利？①平等權 ②自由權 ③參政權 ④受益權。
- (2) () 妮妮不能吃豬肉的原因是什麼？①伊斯蘭教的戒律規範妮妮的行為 ②豬肉有太多細菌，容易使妮妮生病 ③老闆家中禁止吃豬肉 ④豬肉是貴族才能享受的食物，妮妮不是貴族，不能吃豬肉。

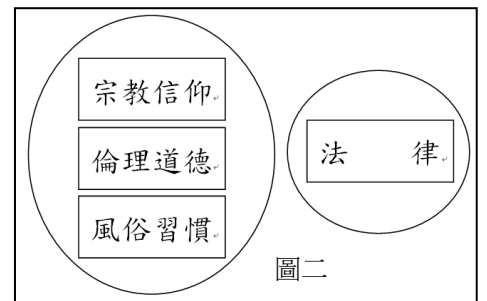
下一面還有考題，請翻面作答，加油加油加油！

貳、題組選擇題(每答2分，共36分)

一、閱讀阿布的故事，回答問題：

泰雅族的阿布和奶奶相依為命，媽媽在阿布小時候就過世了，爸爸因為獵捕保育類動物—台灣長鬃山羊，違反野生動物保育法而被逮捕入獄。部落長老說：「臺灣原住民族大多有打獵的文化，我們祈求大自然給我們即將淘汰的動物就好，我們不貪多，夠吃就好；我們相信獲取獵物要心存感激，感謝祖靈的庇佑，讓家人與部落族人生命得延續下去。在泰雅族的文化中，優秀的獵人在多次狩獵成功後還可以紋面，在臉上留下光榮的印記；以前狩獵前部落會占卜問神問祖靈是否適合出門捕獵，沒想到現在打獵卻須經過申請，獲得政府同意才能打獵…唉，真希望政府可以尊重原住民文化，還給我們打獵的空間與文化！」

- () 為什麼阿布的爸爸會被逮捕入獄？①宗教信仰反對殺生 ②依據法律，爸爸的行為違反法律規定 ③政府可以隨意執行公權力，將民眾拘禁 ④殺生受到良心的譴責。
- () 泰雅族文化中，優秀的獵人以紋面展現打獵實力，是屬於哪一種社會規範？①風俗習慣 ②倫理道德 ③宗教信仰 ④法律。
- () 原住民打獵前占卜、捕獲獵物感謝祖靈的保佑屬於哪一種社會規範？①風俗習慣 ②倫理道德 ③宗教信仰 ④法律。
- () 當原住民的傳統文化和現代社會規範發生衝突時，下列哪一項做法比較適當？①殺生打獵即是不對，應該嚴令禁止 ②深入了解原住民傳統文化與法律的真正用意，透過適當的方式調整法律內容 ③原住民打獵並沒有影響到大多數人，因此可以不用被規範 ④法律應一視同仁，要求原住民依定要遵守現代社會的規範，讓社會更加和諧有秩序。
- () 根據文章內容，社會規範不具有下列何種特性？①會隨社會變遷而調整 ②不同文化背景形成不同的社會規範 ③社會規範可能造成社會秩序的混亂 ④可以約束個人行為。
- () 如果政府聽到部落長老的聲音，想要修訂法律，需要將野生動物保育法送達哪一機關進行討論表決呢？①總統府 ②警察局 ③地方法院 ④立法院。
- () 阿布發現社會規範影響人們生活日常，在筆記本紀錄有關社會規範的重點，並且將社會規範進行分類，分類結果如右圖圖二，請問阿布分類的標準是什麼？①形成的時間長短 ②對象 ③功能 ④是否具備強制力。



二、閱讀阿布的故事續集，回答問題：

阿布奶奶病倒了，病情很嚴重，最後離開了人世，這一年，阿布才15歲。奶奶過世後，竟然有鄰居造謠，指責阿布不孝，沒照顧好奶奶，讓奶奶病死了。需要大人照顧的阿布，被接到外縣市的親戚家，轉學到新學校的阿布常常受到同學的欺負，還有人在網路上討論與嘲笑阿布是沒人要的孩子，讓阿布心情非常低落。

- () 鄰居指責阿布不孝，是屬於哪一種社會規範？①風俗習慣 ②倫理道德 ③宗教信仰 ④法律。
- () 下列哪一項法律規範15歲的阿布須受到大人的妥善照顧？①國民教育法 ②社會秩序維護法 ③少年事件處理法 ④兒童及少年福利與權益保障法。
- () 阿布必須受到妥善的照顧，是屬於阿布的哪一項基本權利？①平等權 ②自由權 ③受益權 ④參政權。
- () 阿布居住在親戚家，親戚應該怎樣照顧阿布？①買酒給阿布喝，幫助阿布忘記傷心的事 ②讓阿布按時上學，接受教育 ③擔心阿布感到無聊，讓他盡情玩手機遊戲不加以限制 ④為了讓阿布脫離貧窮，帶阿布外出工作賺錢。
- () 同學在網路上嘲笑阿布，以下敘述何者正確？①屬於霸凌的一種行為 ②惡意嘲笑，同學應該被逮捕 ③未成年的同學身心尚未成熟，不應該受到處罰 ④同學在網路上發表言論是他的權利，不應該被加以規範。

再堅持一下，往後翻就是盡頭了，加油！

三、繼續閱讀阿布的故事回答問題：

心情低落的阿布常上網下載影片觀賞，也常大聲唱歌紓解壓力，有時搭公車，也是想唱就唱，引來許多白眼，但阿布並不在乎，心裡常想：「這是我的自由，我高興就好了，管這麼多做什麼！」

直到最近，阿布偷騎親戚的摩托車，享受飆車的快感，撞傷行人後又撞上電線桿，因而失去了自己的一雙腿。除了面對自己的病痛，還得面臨法律的制裁與賠償，現在的他為自己過去的行為深感後悔。

13. () 為什麼阿布在公車上唱歌會招來白眼？①影響他人權益 ②犯了公然侮辱罪 ③乘客霸凌阿布 ④觸犯道路交通管理處罰條例。
14. () 阿布常上網下載影片觀賞，這種行為犯了哪種錯誤？①違反電影分級辦法 ②違反著作權法 ③觸犯竊盜罪 ④妨害他人自由。
15. () 阿布認為「自由」就是「我高興就好了」，這代表阿布 ①不懂得「自由」的真正意義 ②擁有毫無限制的權利 ③能遵守民法與刑法 ④可以在自由的前提下侵占他人的權利。
16. () 阿布未成年駕駛，不重視他人生命價值的行徑，主要是侵犯到憲法所賦予的何項權利？①平等權 ②自由權 ③受益權 ④參政權。
17. () 路人與阿布間的糾紛無法順利解決，請問以下哪一項解決方法是正確的？①找幫派尋仇 ②路人向法院提告，提起訴訟 ③寫信給總統，請總統協助解決 ④向政府表達意見，向政府申訴。

參、問答題(每答3分，共12分)

1. 我國法律對於兒童和青少年提供許多保護，請寫出你受到保護的實例二則。

(1) _____

(2) _____

2. 身為國小學生的你，要如何讓自己成為守法的好公民？請寫出二個具體作為。

(1) _____

(2) _____

抵達終點，恭喜你作答完畢，堅持到最後一刻，多加檢查，確保不留遺憾，先預祝你這階段的學習收穫滿滿

