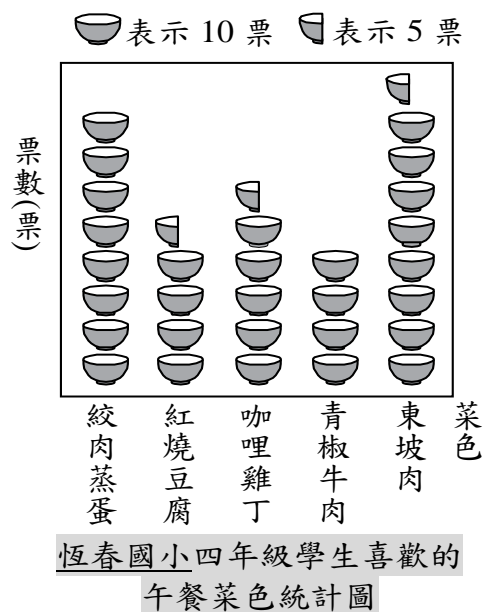


屏東縣恆春國小 108 學年度上學期第三次定期評量

領域：數學 四年【 】班【 】號 姓名：【 】

一、選擇題(每題 2 分，共 12 分)

- () 1. 在一個小數的最後面任意增加 0，其值會變如何？
 ①變小 ②變大 ③不變 ④不一定
- () 2. 下圖是恆春國小四年級學生喜歡的午餐菜色統計圖，最少人喜歡的菜色是什麼？



- ①紅燒豆腐 ②咖哩雞丁
 ③青椒牛肉 ④東坡肉
- () 3. 下列哪一項是用來統計資料的統計圖？
 ①地圖 ②長條圖
 ③縮小圖 ④以上都是
- () 4. 以直線連接相鄰兩資料點的圖形，是下面哪一種統計圖？
 ①正方圖 ②長條圖 ③折線圖 ④直方圖
- () 5. 統計圖中出現「 \approx 」表示什麼意思？
 ①統計圖的橫軸
 ②沒有數量的意思
 ③省略某一段數量的呈現，方便統計圖能將統計表的資料全部畫出來
 ④以上皆是
- () 6. 以長條狀圖形的高度或長度代表資料量的統計圖形，其中各長條間並不相連接，是下面哪一種統計圖？
 ①正方圖 ②長條圖
 ③折線圖 ④直方圖

二、在□裡填入>、<或= (每題 2 分，共 20 分)

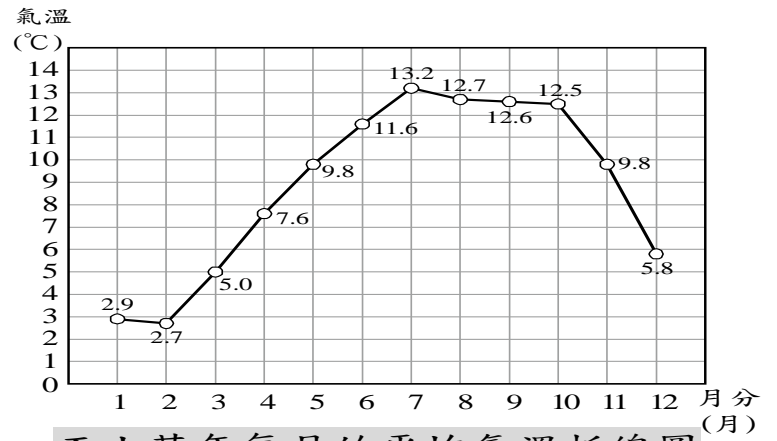
- (1) 0.65 □ 0.56
 (2) 10.15 □ 十點零六
 (3) 23.11 □ 23.01
 (4) 一百二十三點五六 □ 123.56
 (5) 9.87 □ 978 個 0.01 合起來
 (6) 21 公尺 30 公分 □ 21.3 公尺
 (7) 10 公尺 □ 110 公分
 (8) 2 公升 50 毫升 □ 3 公升 30 毫升
 (9) 1090 毫升 □ 1 公升 90 毫升
 (10) 5 公升 □ 500 毫升

三、應用題(每題 4 分，共 20 分)

- (1) 阿潔的身高是 1.46 公尺，小榕的身高比阿潔高 0.25 公尺，小榕的身高是多少公尺？
- (2) 小君的水壺可裝水 2 公升，小明的水壺可裝水 1 公升 80 毫升，誰的水壺容量比較大？相差幾毫升？
- (3) 一本字典重 1 公斤 800 公克，書架上有 3 本，共重幾公斤幾公克？
- (4) 一隻雞重 1.97 公斤，一隻鵝重 2.43 公斤，一隻雞和一隻鵝共重多少公斤？

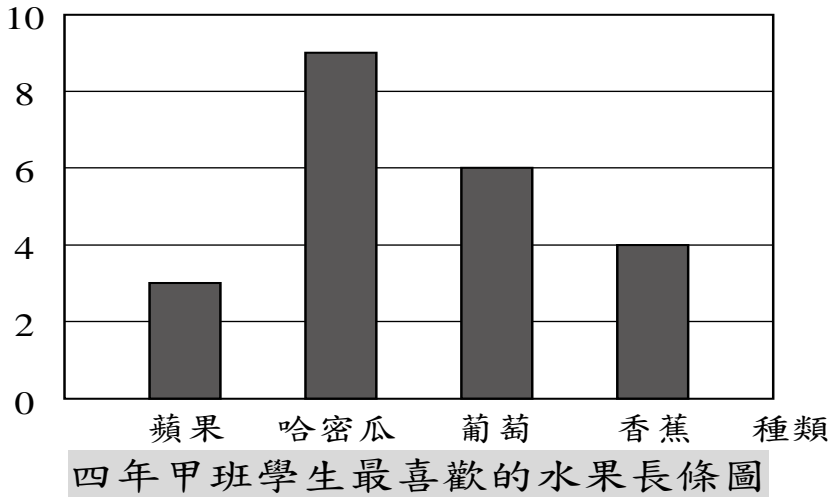
(5) 一條緞帶長 4.2 公尺，包裝禮物用掉 1.95 公尺後，剩下多少公尺？

3. 下面是玉山某年每月的平均氣溫折線圖。



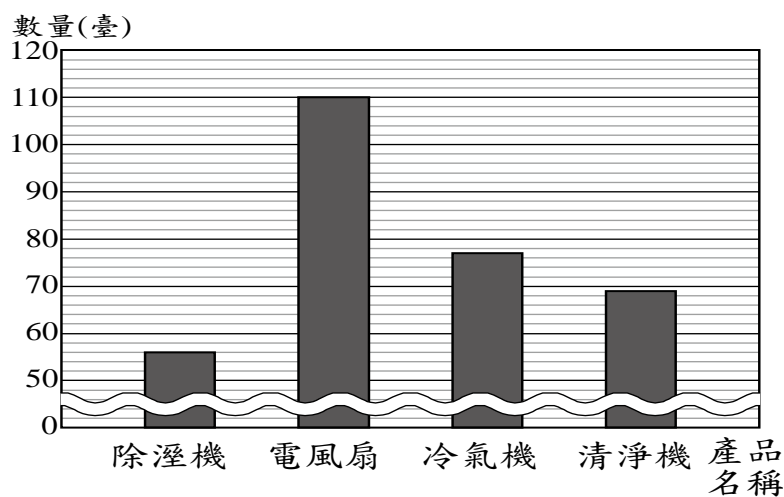
四、看圖回答問題(每格 2 分，共 26 分)

1. 下圖是調查四年甲班學生最喜歡的水果長條圖。



- 哪一種水果喜歡的人最多？()
- 四年甲班學生最多人喜歡的水果和最多人喜歡的水果，兩者相差了()人。
- 一人投 1 票，沒有人投廢票，四年甲班參與投票的學生共有多少人？()人

2. 下圖是恆春家電行去年部分家電銷售數量長條圖。



恆春家電行去年部分家電銷售數量長條圖

- 冷氣機賣出了()臺。
- 清淨機賣出了()臺。
- 銷售數量最多的家電是()。
- 銷售數量最少的家電是()。

- 哪一個月的平均氣溫最低？
()月，是()°C
- 平均氣溫最高和最低相差了()°C。
- 從()月到()月的平均氣溫是上升的。
- 從 10 月到 12 月的平均氣溫是逐漸上升還是下降？()

五、計算題，用直式計算出結果(每題 3 分，共 12 分)

(1) 6 公升 840 毫升 ÷ 5 = () 毫升	(2) 7 公升 200 毫升 × 6 = () 公升 () 毫升
(3) 2.45 + 1.28 = ()	(4) 32.83 - 17.67 = ()

六、填填看(每題 2 分，共 10 分)

- 「十三點零六」寫成阿拉伯數字是()。
- 「1.01」讀作()。
- 5.04 是由()個 1、()個 0.1 和()個 0.01 合起來的。