

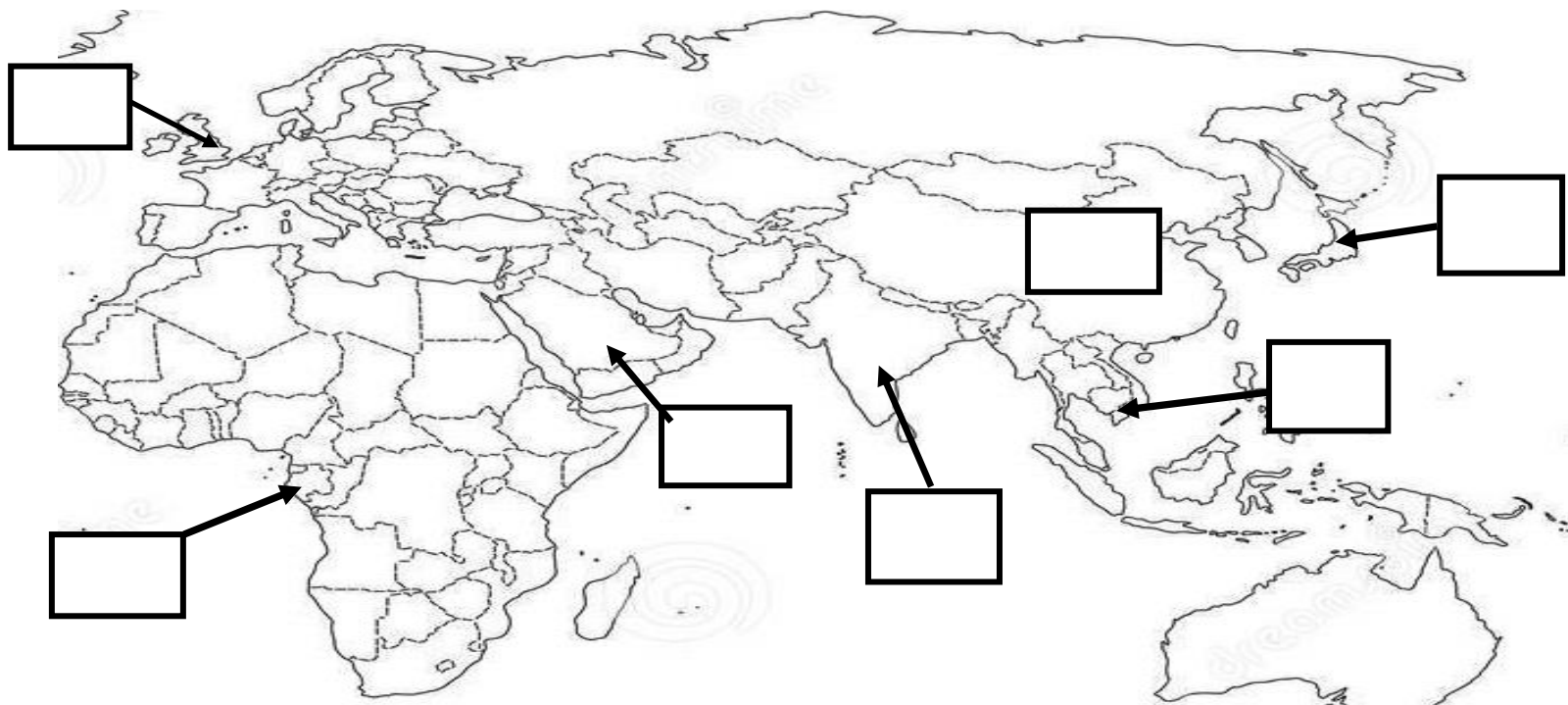
屏東縣恆春國小 108 學年度上學期第三次定期評量

領域：社會 六年【 】班【 】號 姓名：【 】

一、圖表題：(每格 2 分，共 14 分)

請從地圖中找出相對應的文化區域位置，並在地圖中填入對應的英文字母代號

A：中華地區文化 B：東北亞文化 C：東南亞文化 D：南亞文化 E：西亞文化 F：歐洲文化 G：非洲文化



二、題組題：(每個選項 2 分，共 38 分)

1. 詹姆士是一位大學生，他計畫在暑假『這個地區』進行深度旅遊，『這個地區』盛產稻米、小麥等作物，發展出獨特的米食、麵食文化。『這個地區』因為幅員廣大，各地族群不同，加上將近五千年的歷史，因此發展出許多獨特的傳統文化。而儒家思想是『這個地區』相當重要的特色，並深深影響了幾千年來的家庭、社會、教育等觀念。詹姆士期待透過深度旅遊，讓自己能更加瞭解『這個地區』的特色與文化喔！

() 甲、根據上述文章所敘述的特色文化，請問『這個地區』是哪裡下列哪個選項呢？①東北亞文化 ②南亞文化 ③東南亞文化 ④中華地區

乙、儒家思想是此地區文化相當重要的特色，請寫出儒家思想的代表人物。答：_____

() 丙、承上題，下列關於儒家思想的敘述不是正確的？①主張有教無類的教育精神 ②道德經為主要經典 ③重視維護人際觀念 ④培養善待他人的品德修養

丁、除了儒家思想以外，此地區在春秋戰國時期，產生了各種思想流派，道家思想也在同時期出現。「道教」創始人更將道家思想結合鬼神傳說、先人崇拜等，發展出此地區的原生宗教。下列關於道教的敘述，那些是正確的？請寫出正確選項的代號。(不只一個答案) ①追求得道成仙 ②禁吃豬肉與喝酒 ③舉行法會超渡孤魂野鬼 ④主張眾生平等，不殺生。答：_____ (4分)

() 戊、承上題，阿君為道教的虔誠信徒，請問她有可能會敬奉下列哪位神祇呢？①天照大神 ②阿拉 ③上帝 ④玉皇大帝

己、臺灣因為移民的影響，受到此地區文化影響甚深，請寫出一項影響內容。(4分)

答：_____

2. 阿泰是一位從泰國移居到臺灣的新住民，他發現臺灣的生活方式與他的家鄉有些不同。例如：阿泰家鄉的料理喜歡加入檸檬、辣椒等來做調味。而每年的四月也會舉辦潑水節，家鄉的人都會聚集至街道上，並向眾人潑灑純淨的水，彼此互相祝福。

() 甲、文章中提到此地區的飲食多會加入檸檬、辣椒等調味以促進食慾，主要是因為下列哪個因素的影響呢？
①宗教信仰 ②政府法令規定 ③氣候

() 乙、文章中提到的潑水節為泰國、緬甸等國家的重要節慶，下列哪個關於潑水節的敘述是正確的？
①除去災禍，帶來好運 ②向神明祈求作物豐收 ③破除因果輪迴，不再受種性制度束縛

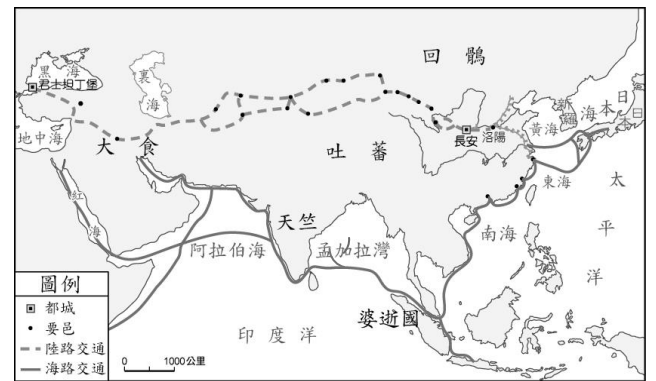
- () 丙、東南亞地區的宗教十分多元，而此地區宗教多由其他地方傳入，下列哪個敘述錯誤呢？①佛教由陸路傳播至泰國，大多數泰國人信仰佛教 ②受阿拉伯人航海貿易影響，印尼境內多信仰伊斯蘭教 ③受到中華文化傳播影響，菲律賓當地多信仰道教。

3. 伊桑是一位高科技的高階主管，他和工作同仁分享關於家鄉的特色。伊桑的家鄉位在南亞，當地氣候炎熱，家鄉的女性也常身穿(如左圖)傳統服飾。伊桑的家鄉有一條河，家鄉的居民相信這條河是神明的化身，並會到河中進行沐浴，以祈望洗去自身的罪業。伊桑喜歡將各種香料添加在日常料理中，做成美味的料理，並習慣用手抓取食物來飲食。



- () 甲、伊桑可能是哪一個國家的人民呢？①印尼 ②阿拉伯 ③日本 ④印度
 () 乙、文章中提到，居民會在河中沐浴，請問是受到哪個宗教的影響呢？①佛教 ②伊斯蘭教 ③印度教 ④道教
 () 丙、在伊桑的故鄉，除了有上題的宗教外，同時是佛教的發源地，請問下列哪個敘述是佛教的特色呢？①透過遵守戒律，打坐沉思等方式，人人皆可以成佛 ②得到上帝的救贖就可進入天堂 ③每日朝麥加方向朝拜5次

4. 在古代，絲綢與瓷器是中國的特產，透過陸地和海洋的交通路線與國外貿易，並進行文化交流。最早的貿易路線是穿越中亞地區的陸上絲綢之路(地圖中的虛線路線)。阿拉伯地區的商人透過駱駝商隊，將中國盛產的絲綢販售至西亞與歐洲地區。之後，海上貿易興盛，阿拉伯商人將中國的另一項特產瓷器，藉由亞洲南方的海上瓷器之路(地圖中的實線路線)，以大型帆船輸送至南亞、西亞及歐洲等地。另外，源自阿拉伯、印度地區的伊斯蘭教與佛教，也會透過這兩條交通路線傳播至東南亞、東北亞等地。



- () 甲、請依據文章敘述，選出正確「絲綢之路」的路線？①非洲→東北亞→歐洲 ②中國→中亞→西亞→歐洲
 ③西亞→歐洲→東南亞
 () 乙、這條「絲綢之路」因為頻繁的貿易往來，進而加速了文化的傳播，下列關於文化的傳播哪個敘述正確呢？
 ①阿拉伯人改編印度的數字，後傳入到歐洲，修改成現今使用的阿拉伯數字。②印度教因為此貿易路線，經由僧侶傳至日本。 ③印尼巴里島因為處於海上貿易路線，因此全島居民皆信仰伊斯蘭教。
 丙、阿拉伯商人主要位於亞洲的哪一區呢？答：_____。
 () 丁、承上題，此地區因為氣候乾燥炎熱，終年少雨，因此產生哪些文化特色？①喜歡吃酸、辣食物 ②為防止中暑，此地區居民喜歡穿短袖③傳統生活方式以游牧為主，為了便於遷徙，有使用地毯的習慣
 () 戊、此地區的阿拉伯商人主要信仰伊斯蘭教，請問下列關於伊斯蘭教的敘述，哪個不正確呢？①信仰唯一真主「阿拉」 ②齋戒月的夜晚不可進食 ③遵守古蘭經的教誨

三、配合題：(每格2分，共20分)

甲、東北亞地區有日本、南韓與北韓等國家，請將下列敘述選項進行配對，填入正確代號。

- A、日本 B、南韓與北韓
- () 1. 傳統服飾為韓服
 () 2. 傳統服飾為和服
 () 3. 天氣寒冷，不利植物生長，居民多製作泡菜保存食物
 () 4. 居民信奉天照大神，並自稱為天照大神後代
 () 5. 食用壽司

乙、請閱讀完下列對於各宗教的敘述後，將相對選項進行配對，並填入正確代號。

- A、佛教 B、印度教 C、基督宗教 D、伊斯蘭教 E、道教
- () 1. 發源於中國的原生宗教
 () 2. 信徒認為「牛」是神明的坐騎，因此敬奉聖牛，不食用牛肉
 () 3. 信徒在齋戒月結束後，會舉行開齋節，感謝真主保佑
 () 4. 眾生平等、人應心懷慈悲，不可以殺生
 () 5. 信徒興建教堂，並每週至教堂進行禮拜

四、閱讀文章後回答問題，將答案填入()裡：(每格 2 分，共 8 分)

1. 四年舉辦一次的奧林匹克運動會源於奧林匹亞祭典，而於 1896 年，第一屆現代奧林匹克運動會終於在希臘雅典正式舉行。古人曾經約定奧運會舉行期間，希臘各城邦互不交戰，久而久之，奧林匹亞祭典就成了和平的象徵。現今的奧運會雖然是各國運動競技的項目，但主要的精神仍是以世界和平為主。奧林匹克聖火在赫拉神廟前點燃，由女祭司點燃聖火後傳遞給第一位火炬手，再將它傳到世界各地。這個古代流傳的運動盛會，至今仍吸引無數的觀光客前往觀賞。
- () 甲、奧林匹克運動會發源於下列哪一個地區？(①埃及②希臘③英國④荷蘭)。
- () 乙、承上題，這個活動原先是為了哪個目的而舉辦的？(①希望死後復生②吸引觀光客，促進經濟發展③因應戰爭需求，鍛鍊體魄)。
- () 丙、遊客若到奧林匹亞祭典發源地希臘遊玩，可品嚐到哪種傳統料理？(①加入咖哩烹煮②以蔬菜醃漬製成的泡菜食物③以新鮮海鮮製成的壽司④以橄欖油烹煮的食物)。
- () 丁、世界文化遺址的希臘雅典的帕德嫩神殿，是哪一種風格的建築形式呢？(①廟宇龍柱②立柱式神殿③教堂尖塔)。

五、請依據題目的敘述，在正確的選項()中打√：(每格 2 分，共 20 分)

1. 圖 1 是某一洲的地圖，圖中的 A、B 兩地分別有不同的生活方式和文化特色，請依據題義回答，是的在()裡打√：

甲、這是哪一洲的地圖？

- ()①大洋洲 ()②非洲

乙、這一洲大部分的地區的氣候狀況如何呢？

- ()①乾燥、炎熱且少雨。 ()②位處溫帶，時有降雨，為溼涼的氣候。

丙、B 地居民多信仰基督宗教，而且當地從 16 世紀開始就有許多歐洲人在此居住，請問是因為哪個原因呢？

- ()①因為歐洲居民躲避戰亂，長途遷徙至此居住。 ()②因為貿易發達，是歐洲開往亞洲船隻的補給站。

丁、圖 2 和圖 3 是哪一個地方的文化特色呢？

- ()①A 地 ()②B 地

戊、圖 2 中的文化遺跡是因此地區民哪種文化特色而建造？

- ()①信仰人死可以復生，所以將統治者的屍體製作成木乃伊
()②當地人認為大地萬物皆有神靈



圖 1




圖 2



圖 3

▲作答完畢，請務必重新檢查喔！