



# 屏東縣恆春國小 108 學年度下學期第一次定期評量


領域：數學 二年【 】班【 】號 姓名：【 】

## 一、填填看看(每格 2 分，共 42 分)

- (1) 600 → ( ) → 800 → 900 → ( )。
- (2) 737 → 727 → ( ) → 707 → ( )。
- (3) 3 個百、14 個十和 8 個一合起來是 ( )。
- (4) 608 的百位數字是 6，十位數字是 ( )。
- (5) 250 公分是 ( ) 公尺 ( ) 公分。
- (6) 1 公尺 8 公分 ( ) 110 公分。


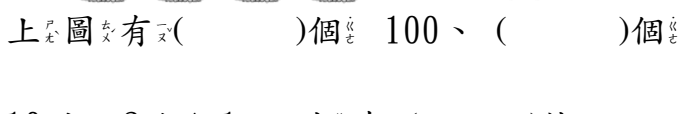
- (填入 >、< 或 =)
- (7) 82 公分 + 56 公分 = ( ) 公分。
  - (8) 「三百零二」記作 ( )。
  - (9) 「799」讀作 ( )。

- (10) 1 條  長 1 公尺，7 條  合起來長 ( ) 公尺。

- (11)  上圖有 ( ) 個 100、( ) 個 10 和 2 個 1，共有 ( ) 枝。

- (12) 將數字由大到小依序填入

蘋果裡：657、375、413、933、659



## 二、題組題(每題 4 分，共 12 分)

◎ 兒童節連假時，莉莉、爸爸和媽媽一起去遊樂園玩。

票價	門票		立體電影	布偶劇場	遊戲場
	全票	122 元			
	半票	108 元	35 元	42 元	50 元

1. 莉莉 全家要買 2 張全票和 1 張半票，共要花幾元？(請畫出 100、10 或 1 表示，再寫答案)

共 ( ) 元

2. 爸爸和媽媽要看立體電影，莉莉 要去遊戲場玩，請問三人共要花多少元？(請寫出算式和答案)

共 ( ) 元

3. 承上題，爸爸付了 500 元，會找回幾元？(請寫出算式和答案)

共 ( ) 元

三、把實際比長度比1公尺長的物品圍起來；比1公尺短的畫三角。

汽車	鉛筆	床鋪
花片	書本	手指
火車	板擦	旗桿

四、寫出直式和答案。(每題3分，共12分)

① $730 + 189 =$ _____	② $88 + 253 =$ _____
③ $450 - 438 =$ _____	④ $100 - 72 =$ _____

五、排排看(每題6分，共12分)

0	2	3	4
5	6	7	8

(1) 選3張數字卡，排出最大的三位數。

最大的三位數		

(2) 選3張數字卡，排出最小的三位數。

最小的三位數		

六、應用題，請寫出算式和答案。(第1題4分，其餘每題3分，共13分)

1. 紅彩帶長13公尺，藍彩帶長9公尺。兩條彩帶合起來是幾公尺？兩條彩帶相差幾公尺？

答：合起來 ( ) 公尺  
相差 ( ) 公尺

2. 鐵軌1條長26公尺，2條相同的鐵軌接在一起，共長幾公尺？

答：共 ( ) 公尺

3. 一碗海鮮麵賣75元，一碗牛肉麵的價錢比一碗海鮮麵多25元，各買一碗共要幾元？

答：共 ( ) 元

4. 水池裡有84隻鯉魚，放入26隻後，撈走15隻，水池裡還有幾隻鯉魚？

答： ( ) 隻