

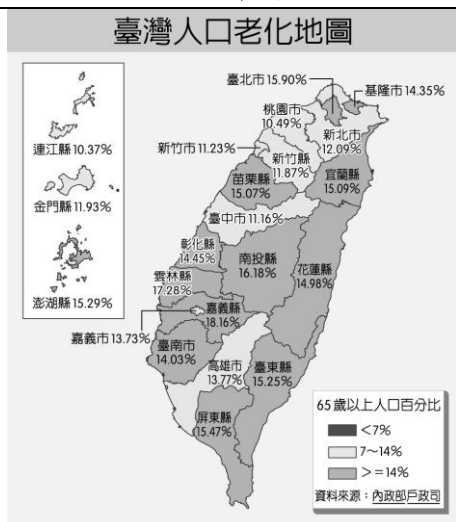
屏東縣恆春國小 108 學年度下學期第一次定期評量

領域：社會 四年【 】班【 】號 姓名：【 】

一、是非題：每題 2 分、共 16 分

- () 1. 家鄉的民間團體有時也會與縣市政府合作，例如舉辦免費肝病篩檢活動。
- () 2. 姑姑因為結婚從屏東搬到臺中的老公家住，因此，造成姑姑產生人口移動現象的原因是生活品質。
- () 3. 隨著生育觀念的改變，臺灣新生兒人數不斷增加。
- () 4. 居民可以透過縣市政府大樓的多媒體導覽設備，了解政府各種為民服務的工作內容。
- () 5. 從家鄉居民的年齡組成、教育程度及產業類別等資料，可以了解家鄉人口的組成情形。
- () 6. 為維護自身權益，發現交通事故時，要趕快離開現場，不用通報相關單位，免得惹上麻煩。

臺灣的老年人口數已經接近聯合國定義的「高齡社會」門檻了，也就是老年人口占總人口比例超過 14%，請依下圖回答問題 7~8。

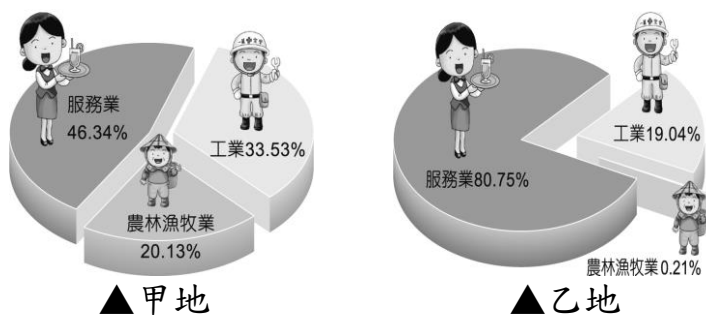


- () 7. 全臺灣人口老化最嚴重的地方是屏東縣。
- () 8. 臺南市的老年人口占 14.03%，屬高齡社會，政府應該重視老人長期照顧問題。

二、選擇題：每題 3 分、共 24 分

- () 1. 遇到家鄉機關服務人員態度不佳時，我們可以怎麼做？ ①破口大罵 ②填寫意見單向機關申訴 ③撥打 119 ④找議員教訓他。
- () 2. 下列哪一項與提升家鄉的人口素質有關？ ①各項產業類別 ②性別比例 ③自然環境 ④教育程度。
- () 3. 近年來，樂活鄉的幼年人口不斷減少，當地政府為鼓勵生育，採取哪一種因應措施較適當？ ①成立長青學苑 ②提供長期照顧服務 ③推動生育補助 ④辦理終身教育課程。

- () 4. 芯語想了解家鄉過去幾年的出生及死亡人口總數，他可以採取哪一種方式蒐集家鄉人口資料較適合？ ①拜訪家鄉的戶政事務所 ②訪問小學生 ③翻閱字典 ④繪製家鄉地形圖。
- () 5. 李爺爺孤苦無依、經濟困頓，里長為了幫助他，可以到哪個機關幫他申請各項扶助津貼？ ①消防局 ②教育局 ③衛生局 ④社會局。
- () 6. 若以年齡區分人口結構，下列何者代表家鄉的扶養能力與競爭力？ ①10歲就讀國小的小新 ②35歲的阿兩警官 ③65歲已退休的哥爾羅傑 ④74歲的友藏爺爺。
- () 7. 造成近年來臺灣死亡年齡逐漸延後、老年人口逐漸增加的原因是？ ①重男輕女觀念的改變 ②政府推出各種生育補助 ③人口大量移入 ④醫療照護及保健觀念的提升。
- () 8. 請看下面圓餅圖回答問題。



這兩個地方的居民從事哪種行業的人口比例最多？ ①農林漁牧業 ②工業 ③服務業 ④一樣多。

三、填代號：每答 2 分、共 40 分

1. 頗受人民喜愛的零九議員在(①)任期屆滿後，想繼續為家鄉人民服務，因此決定競選理想市市長。在他登記參選後，便積極於適當時機進行(②)，讓選民知道他的競選理念，最終打敗對手，高票當選。現在身為市長的他決定解決理想市長久以來人口過度(③)的問題，此現象不僅造成理想市公共設施嚴重不足更使得人民的生活品質降低，因此，他規劃了完善的公共建設與人口政策，並提出相關預算，送交家鄉的(④)審理。

參考答案：

A 兩年 B 四年 C 八年 D 投票
 E 政見發表 F 公告選舉結果 G 移入
 H 移出 I 死亡 J 縣市政府 K 議會

①	②	③	④
---	---	---	---

2. 強烈颱風來襲，零九市長坐鎮市府成立(①)，整合各單位，進行相關救災工作。首先他請(②)出動裝甲車，協助運送因淹水而受困的受傷民眾，將他們撤離到(③)，交由(④)成立的臨時救護站處理傷口，避免感染，再請(⑤)積極搶修電路，以期能儘快恢復正常供電。所幸此次在市長的坐鎮與各單位的協助之下，總算平安度過。

參考答案：

A 災害應變中心 B 緊急安置所 C 消防單位
D 電力公司 E 醫療單位 F 社福單位
G 環保單位 H 軍事單位

①	②	③	④	⑤
---	---	---	---	---

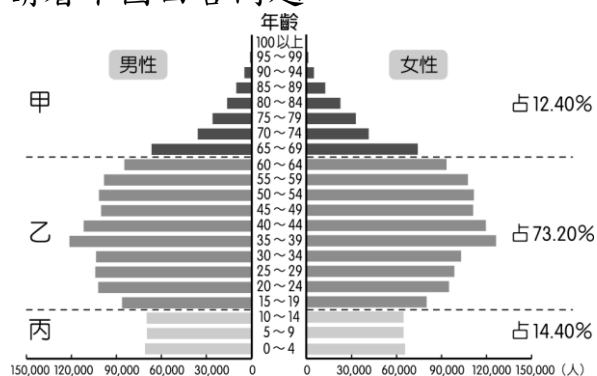
3. 年假期間，零九市長一家人各自參加了由不同民間團體所舉辦的活動。他本人參加由(①)舉辦的關心街友活動，邀請街友共同用餐；市長夫人喜歡花花草草，所以參加由(②)舉辦的「一人種一樹、人人愛地球」活動；市長的女兒因為喜愛小動物，所以參加了由(③)所舉辦的認養流浪狗活動。

參考答案：

A 環保團體 B 醫療團體 C 慈善團體
D 動物保護協會 E 藝文團體 F 保健團體

①	②	③
---	---	---

4. 請看下圖回答問題。



此圖是理想市的人口結構圖，零九市長的媽媽高齡84歲，屬於圖中的甲區，是(①)人口；零九市長的兒子今年就讀國小，屬於圖中的丙區，是(②)人口，兩人都屬於(③)人口。

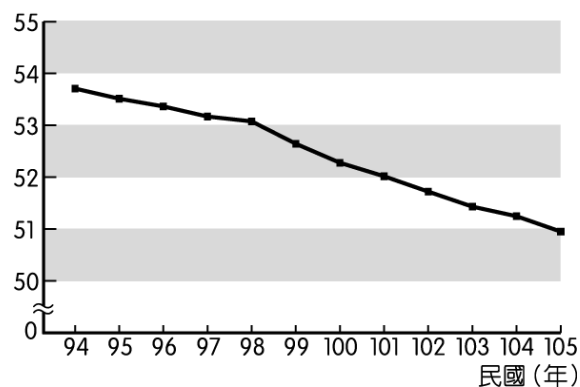
參考答案：

A 幼年 B 青壯年 C 老年 D 勞動人口
E 被扶養人口

①	②	③
---	---	---

5. 請看下圖回答問題。

人口數(萬人)



這張圖是零九市長的爸爸長年居住地區快活縣的人口成長曲線圖，橫軸代表(①)，縱軸代表(②)，總人口數從94年開始有不斷(③)的趨勢。主要是因為近十年來，隔壁的理想市發展快速，增加許多就業機會，讓快活縣的年輕人都到理想市發展，造成快活縣的人口大量(④)，因此面臨(⑤)不足的問題，也間接造成許多幼兒與老人家缺乏照顧，政府應該趕快想辦法解決這樣的問題。

參考答案：

A 增加 B 減少 C 移入 D 移出
E 人口數 F 年 G 百分比
H 勞工 I 資金 J 公共設施

①	②	③	④	⑤
---	---	---	---	---

四、連連看：每線2分，共20分

1. 請分類下面影響家鄉人口變遷的因素。

- (1) 爺爺生病過世了 A 出生
- (2) 媽媽從越南嫁來臺灣 B 死亡
- (3) 阿姨生了一個小寶寶 C 移入
- (4) 姐姐婚後搬到日本定居 D 移出

2. 請依據家鄉發展因素與地形的關係，連連看。

- (1) 工商發達 A 平原與盆地
- (2) 交通不便 B 丘陵與山地
- (3) 居住人口多
- (4) 開發不易
- (5) 開發較早
- (6) 地勢較平坦

《作答結束，請重新仔細檢查兩次！！》