

一、臺灣史新聞：請依提示作答，每答 2 分，共 34 分

1. 圖(一)是新聞專題報導舉出的例子，請讀例子並回答以下問題。

例子 1：朱一貴起兵
例子 2：林爽文率眾反抗
例子 3：戴潮春聚眾鬧事

圖(一)

- (1)()此專題報導的主題是下列哪一選項？①清領民變 ②族群械鬥 ③原、漢戰爭 ④臺人抗日。
(2)()下列哪一選項是三件事件發生的原因之一？①漢人違法越界開墾 ②爭奪土地與水源 ③食物分配不均 ④官員腐敗與壓迫人民。
(3)()「清廷動用十餘萬大軍平定，是當時規模最大的事件」是針對哪一例子的介紹？①例子 1 ②例子 2 ③例子 3。

2. 人物專訪

人物 1：廖天財，遷徙臺灣的漳州人，穿越凶險的黑水溝來臺開墾，開創新的生活。
人物 2：邱福順，廣東客家移民，受到清初「渡臺三禁」影響，來臺灣時間比較晚。
人物 3：林寶元，福建人，在臺經營運米事業與賣鹽，累積大量財富。

- (1)()天財與福順是合法來臺的中國人士，他們經過以下哪一程序成功來臺？①接受教育通過考試 ②繳交所有財產給政府 ③向清廷申請渡臺許可證 ④健康檢查，身體健康才能來臺。
(2)()天財與福順渡海來臺時會向家鄉的神明祈求平安，守護海上安全，請問他們信仰的神明為何？①祖靈 ②三山國王 ③開漳聖王 ④媽祖。
(3)()「羅漢腳」是指清代社會中男性單身的流浪漢，請問哪一項渡臺禁令造成臺灣在清領時期羅漢腳眾多？①廣東人禁止來臺 ②嚴禁無照渡臺 ③移民禁帶家眷來臺 ④移民來臺禁止工作。
(4)()天財與福順分別屬於兩個團體，兩個團體間曾發生爭執，這類的爭執稱為？①鎮壓 ②民變 ③剝削 ④械鬥。
(5)()寶元累積許多財富，可能居住在下列哪一建築之中？①洋行 ②庭園 ③三合院 ④廟宇。
3. 圖(二)為四則新聞的標題，請問四則新聞發生的時間順序為何？請依先後順序排列。

新聞 1：臺灣獨立建省，首任巡撫產生
新聞 2：馬雅各來臺傳教，為長老教會奠基
新聞 3：大清帝國消滅鄭氏政權，臺灣併入中國版圖
新聞 4：清英法簽訂條約，開放臺四港口

圖(二)

新聞()→新聞()→新聞()→新聞()

4. 請閱讀以下報導，並回答問題：

【1824 年至 1827 年/鹿港報導】

耗時三年，鹿港文開書院即將落成，這是臺灣中部第一家書院，預期帶動鹿港的文教發展。鹿港商業繁榮，讀書風氣盛行，但卻無學生求學場所。1824 年，官員鄧傳安提議興建書院，並向地方士紳募集資金籌辦書院。

- (1)()關於文開書院的敘述何者正確？①是清朝初期的教育機構 ②官民合辦 ③書院及是今日的圖書館 ④目的之一是舉行祭典活動。
(2)()除了書院外，下列哪項也是清朝由私人設立供學子求學的場所？①私塾 ②府學 ③縣學 ④宅第。
(3)()阿順是清代的學子，下列哪一項教材不是他在學習過程中會接觸的教材？①三字經 ②新港文書 ③四書 ④五經。

5. 右圖是報紙專題的插圖與標題，請閱讀線索，並回答問題：

- (1)()圖中是清末一位傳教士為臺灣民眾拔牙的畫面，請問這位傳教士是誰？
①巴克禮 ②約翰·陶德 ③馬偕 ④馬雅各。
(2)()下列哪項不是清末傳教士在臺的貢獻？①引進西式醫療 ②改善原住民教育環境 ③投身教育，創辦西式學校 ④帶動西方文化在臺的發展。




圖(三)
傳愛在臺灣，傳教士貢獻大

二、古物巡禮：請依提示作答，每答3分，共27分

1. 以下是凱琮參觀「騰雲號」火車後所做的報告，請仔細閱讀後回答下列題目：

「騰雲號」火車簡介

壹、保存地點：臺北市和平紀念公園

貳、背景：「騰雲號」是第一部奔馳在臺灣的火車，是臺灣巡撫—向德國購買的，主要用做運送貨物使用。

參、特色：外型簡潔，以蒸汽機為動力來源，重量16公噸，速度慢，但牽引力大，煙囪呈鑽石型。

肆、影響：一、促使臺灣交通邁向現代化。
 二、讓民眾往來臺灣東部與西部更方便。
 三、增進商業運輸能力。
 四、促進臺灣對外的互動發展。

- (1) () 「騰雲號」當時是由誰向德國購買的？①沈葆楨 ②劉銘傳 ③唐景崧 ④余清芳。
- (2) () 「騰雲號」當時主要行駛在哪個路段？①基隆—臺北 ②臺東—屏東 ③臺北—屏東 ④臺北—花蓮。
- (3) () 老師批改報告時告訴凱琮「肆、影響」中有一項較不正確，是指第幾點？①第一點 ②第二點 ③第三點 ④第四點。
- (4) () 凱琮想要知道更多這位臺灣巡撫在臺的貢獻，請問他還可以蒐集哪一方面的資料？①臺灣醫學史 ②臺灣傳染病防治史 ③臺灣留學史 ④臺灣郵政史。
2. () 下圖(四)是清領時期的臺灣中部地圖，圖中的界線是清廷為了隔離漢人與原住民的生活空間而畫設，從圖中的新舊界線改變可以發現哪一現象？①漢人生存空間逐漸縮小 ②臺灣人口數量越來越多，生活空間不足 ③原住民生存空間逐漸縮小 ④不同族群和平共處。



3. 右圖(五)是「清朝時期臺灣重要水圳分布圖」，請依提示回答問題。

- (1) () 清代積極興建水圳的原因為何？①漢人墾墾面積擴大 ②提供民生用水 ③發展養殖漁業 ④蓄水發電。
- (2) 請觀察右圖，並參考答案，進行參考答案與地理位置的配對。(填代號即可)

參考答案：A. 八堡圳、B. 曹公圳、C. 瑠公圳、D. 嘉南大圳

ㄅ地→()、ㄆ地→()、ㄇ地→()

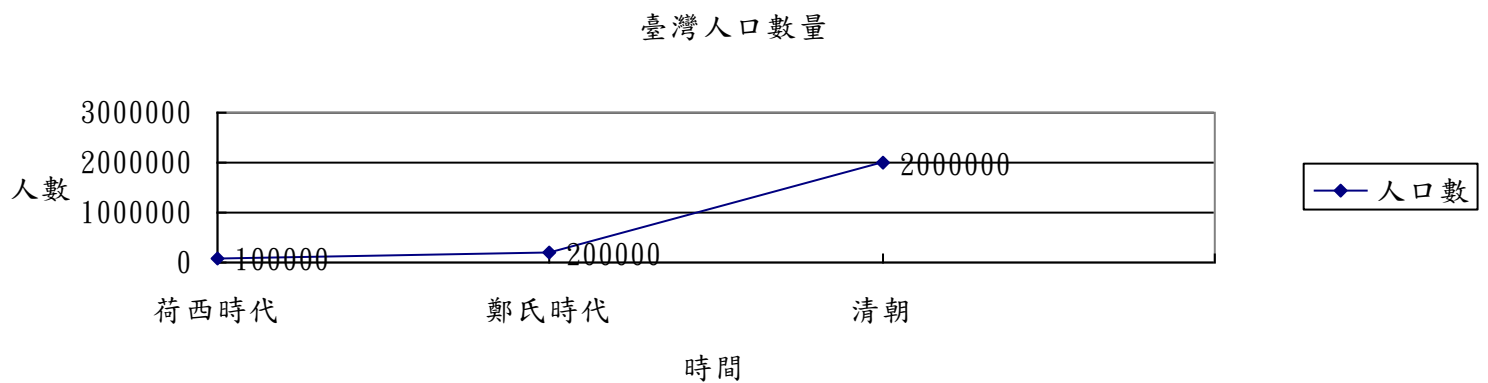


圖(五)

挑戰尚未結束，請翻面繼續作答，加油！！

三、 閱讀測驗：依提示作答，選擇及填空每答 2 分，問答每答 3 分，共 27 分

(一)圖表閱讀



- () 觀察鄭氏時代到清朝的人口數量變化，臺灣人口數量的變化情形與下列哪一因素相關？①西洋商人來臺 ②死亡率下降 ③生育率上升 ④漢人移民增加。
- 寫下清領人口的變化對臺灣的一項影響(正面及負面影響皆可)：

(二)短文閱讀—清初與清末的貿易

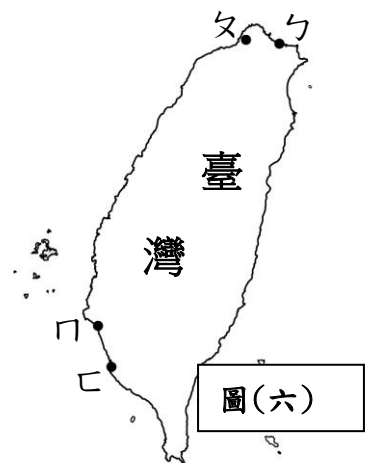
清朝初期，隨著漢人不斷的開墾，稻米和甘蔗等農產品增加，可銷往大陸；另一方面，臺灣也需要更多來自大陸的日常用品，促使臺灣與大陸間貿易往來頻繁，帶動臺灣商業發展，以及「一府二鹿三艋舺」等城鎮的發展。

清朝末期，臺灣開港通商後，生產的茶、糖、樟腦大量出口到世界各地。臺灣主要進口的物品包括鴉片、食品、紡織品等，其中以鴉片數量最多。

- () 請問「一府二鹿三艋舺」反映臺灣開墾歷史中空間順序的哪項特色？
①由北而南 ②由南而北 ③由西而東 ④由東而西。
- 短文第二段描述臺灣開港通商後的貿易狀況，港口位置如右圖圖(六)所示，進行參考答案並與地理位置進行配對。(填代號即可)。

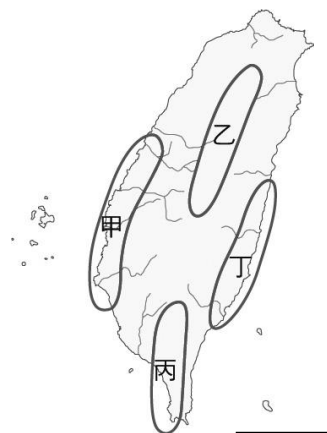
參考答案：A. 鹿港、B. 雞籠、C. 安平、D. 打狗、E. 滬尾、F 花蓮

ㄅ→()、ㄆ→()、ㄇ→()、ㄊ→()



圖(六)

- () 清廷統治臺灣，限制臺灣與國外往來，是哪一項關鍵戰役，促使清廷「開港通商」？①英法聯軍 ②中法戰爭 ③牡丹社事件 ④日軍侵臺。
- () 清末，因為茶葉及樟腦的大量出口，臺灣的經濟重心產生哪種改變？①東移 ②西移 ③南移 ④北移。
- () 開港通商後，臺灣出現一種稱為「洋行」的組織，請問這種組織主要分布在右圖(七)的何處呢？①甲 ②乙 ③丙 ④丁。
- 請依照短文內容，寫出清朝初期與末期對外貿易的一個相同點與一個相異處。




圖(七)

(1) 相同點：

(2) 相異處：

挑戰尚未結束，請翻面繼續作答，加油！！

(三)圖文閱讀



每答3分，共12分

1. ()上圖的漫畫是臺灣 清末發生的重要歷史事件，請問此一歷史事件為何？①英法聯軍 ②鴉片戰爭 ③牡丹社事件 ④甲午戰爭。
2. ()承上題，漫畫中少了丙場景，若內容須合乎歷史發展順序，則圖「丙場景」應為下列何者？①基隆為主要戰場，兩軍死傷慘重 ②清廷派軍參戰，日本大勝，被迫割讓臺灣 ③英國加入戰爭，迫使日本退兵 ④朝廷任命沈葆楨來臺加強軍事防衛。
3. ()此事件發生後，清廷治理臺灣政策態度轉為積極，在臺從事現代化的建設，請問以下哪一項不是事件發生後的建設？①在臺南興建第一座西式砲台 ②修築貫通臺灣東、西越山道路 ③興辦西式學堂，培育人才 ④增設臺北府。
4. 此事件發生後清廷在臺灣南部增設恆春縣以及恆春古城，恆春古城目前被定為國定古蹟，是全臺保有最完整的古城，請你依社會課所學，擔任恆春鎮小小導覽員，用一段完整的話向遊客介紹恆春古城的故事！
(介紹請從建造時間、建造者、建造原因、特色、功能……等進行介紹)

恭喜完成挑戰，能力再進階，請多次檢查，加油！！